

















Preguntas oficiales de la Dirección de Seguridad de Tránsito de la Policía Nacional  
Tema SEÑALES DE TRANSITO. Para presentar examen teórico en cualquier trámite.

<p><b>1. ¿Qué indica esta posición del agente?</b></p> <p>a. Alto, detenga la marcha</p> <p>b. Continúe, siga a marcha</p> <p>c. Pare al borde.</p>	
<p><b>2. ¿Qué indica esta posición del agente?</b></p> <p>a. Alto, detenga la marcha</p> <p>b. Continúe, siga a marcha</p> <p>c. Pare al borde.</p>	
<p><b>3. ¿Qué indica esta posición del agente?</b></p> <p>a. Alto, detenga la marcha</p> <p>b. Continúe, siga a marcha</p> <p>c. Pare al borde.</p>	
<p><b>4. ¿En qué lugares tengo permitido circular a esta velocidad?</b></p> <p>a. Calles y avenidas</p> <p>b. Caminos y carreteras</p> <p>c. Zonas escolares y pistas</p>	
<p><b>5. ¿En cuáles de estos lugares se establece esta prohibición?</b></p> <p>a. Cuestas, puentes y curvas</p> <p>b. Bulevares, pistas, avenidas</p> <p>c. Carreteras de cuatro carriles</p>	
<p><b>6. ¿En cuáles de estos lugares se establece la prohibición de estacionar?</b></p> <p>a. En estacionamientos de discapacitados</p> <p>b. Entradas de clínicas, frente a garajes e hidrantes</p> <p>c. En rotondas, sobre aceras y paradas de buses</p> <p>d. Todas las anteriores</p> <p>e. Ninguna de las anteriores</p>	











<p>7. <b>¿Qué tipo de señal es la se muestra?</b></p> <ul style="list-style-type: none"><li>a. Reglamentaria vertical</li><li><b>b. Preventiva vertical</b></li><li>c. Informativa horizontal</li></ul>	
<p>8. <b>¿Cuál es el significado correcto de esta señal?</b></p> <ul style="list-style-type: none"><li>a. Zona escolar</li><li><b>b. Peatones en la vía</b></li><li>c. Zona comercial</li></ul>	
<p>9.. <b>¿Qué debe hacer el conductor ante la presencia de esta señal?</b></p> <ul style="list-style-type: none"><li>a. Reducir la velocidad y pitar</li><li><b>b. Reducir la velocidad y observar la presencia de semovientes</b></li><li>c. Nada si no hay semovientes</li></ul>	
<p>10.. <b>¿Qué indica esta señal ensamblada junto al alto?</b></p> <ul style="list-style-type: none"><li>a. Que la vía adyacente es de un solo sentido</li><li><b>b. Que la vía adyacente es de doble sentido</b></li><li>c. Que no puedo doblar en ningún sentido</li></ul>	
<p>11.. <b>¿Según la imagen, este conductor que indica?</b></p> <ul style="list-style-type: none"><li>a. Se dispone a salir de la vía</li><li>b. Va a gira ala derecha</li><li><b>c. Va a girar a la izquierda</b></li></ul>	
<p>12. <b>¿Según la imagen, este conductor que indica?</b></p> <ul style="list-style-type: none"><li>a. Se dispone a adelantar</li><li><b>b. Va a girar hacia la derecha</b></li><li>c. Va a girar hacia la izquierda</li></ul>	
<p>13. <b>Esta señal que se muestra, indica:</b></p> <ul style="list-style-type: none"><li>a) Se permite el giro a la izquierda</li><li>b) Me aproximo a una curva a la derecha</li><li>c) Todo giro derecho, está prohibido</li><li><b>d) Ninguna de las anteriores</b></li><li>e) Todas las anteriores.</li></ul>	
<p>14. <b>Esta señal preventiva que se muestra, indica:</b></p> <ul style="list-style-type: none"><li>a) Me aproximo a un tope</li><li><b>b) Me aproximo a una curva a la derecha</b></li><li>c) Todo giro derecho, está prohibido</li></ul>	












<p><b>15. ¿cómo se define esta señal que se muestra?</b></p> <ul style="list-style-type: none"><li>a) Dispositivo luminosos que regula la circulación vial</li><li>b) Me aproximo a un semáforo peatonal</li><li>c) Cualquier giro, está prohibido</li></ul>	
<p><b>16. ¿Qué indica esta señal reglamentaria?</b></p> <ul style="list-style-type: none"><li>a) Cualquier giro de retorno es legal</li><li>b) No podía bajo ninguna circunstancia hacer giro en "U"</li><li>c) La señal indica que si se puede girar en "U"</li></ul>	
<p><b>17. Esta señal que se le muestra, indica:</b></p> <ul style="list-style-type: none"><li>a) Me aproximo a un giro a la derecha</li><li>b) Me aproximo a una curva a la izquierda</li><li>c) Todo giro izquierdo está prohibido</li></ul>	
<p><b>18. ¿Qué tipo de vehículo representa la imagen?</b></p> <ul style="list-style-type: none"><li>a) Un vehículo de régimen preferente</li><li>b) Un vehículo de circulación normal</li><li>c) Un vehículo que no es de ningún régimen</li></ul>	
<p><b>19. Esta señal reglamentaria que se le muestra, indica:</b></p> <ul style="list-style-type: none"><li>a) Use la bocina</li><li>b) Use luces bajas</li><li>c) Zona de silencio</li></ul>	
<p><b>20. Esta señal que se le muestra, indica:</b></p> <ul style="list-style-type: none"><li>a) Prohibido girar izquierdo</li><li>b) Me aproximo a una curva a la izquierda</li><li>c) Todo giro derecho, está prohibido</li></ul>	












<p>21. <b>¿Qué indica esta señal que le muestra?</b></p> <ul style="list-style-type: none"><li>a) Se trata de una vía de doble sentido</li><li>b) Me aproximo a un paso peatonal</li><li>c) Me aproximo a una calle transitada</li></ul>	
<p>22. <b>¿Qué maniobra permite esta señal que se muestra?</b></p> <ul style="list-style-type: none"><li>a. Siga de frente</li><li>b. No hay paso</li><li>c. Una sola vía</li></ul>	
<p>23. <b>¿Qué significado representa esta señal?</b></p> <ul style="list-style-type: none"><li>a) Cuidado, poblado próximo</li><li>b) Zona escolar</li><li>c) Todo giro izquierdo, está permitido</li></ul>	
<p>24. <b>¿Qué significan estas líneas que se muestran?</b></p> <ul style="list-style-type: none"><li>a) Vía de doble sentido</li><li>b) Se puede aventajar</li><li>c) Vía es de un solo sentido</li></ul>	
<p>25. <b>Esta señal que se muestra, indica:</b></p> <ul style="list-style-type: none"><li>a) Debo detenerme y ceder el paso al que circula en vía preferencial</li><li>b) Debo pasar con cuidado sonando el pito para advertir</li><li>c) Solo debo bajar velocidad y continuar siempre</li></ul>	
<p>26. <b>Esta señal que se muestra, indica:</b></p> <ul style="list-style-type: none"><li>a) Vía de doble sentido</li><li>b) El que circula en la banda izquierda puede aventajar.</li><li>c) El que circula en la banda derecha no puede aventajar.</li><li>d) Todas las anteriores</li><li>e) Ninguna de las anteriores</li></ul>	
<p>27. <b>Esta señal que se muestra, indica:</b></p> <ul style="list-style-type: none"><li>a) Vía de doble sentido y No puedo aventajar</li><li>b) Vía de un solo sentido</li><li>c) Si se puede aventajar</li></ul>	












<p><b>28. Esta señal que se muestra, indica:</b></p> <ul style="list-style-type: none"><li>a) Vía de doble sentido y puede aventajar con precaución</li><li>b) No Puedo aventajar</li><li>c) Todo giro izquierdo, está permitido</li></ul>	
<p><b>29. Estas señales que se muestran, indican:</b></p> <ul style="list-style-type: none"><li>a) Carril de centro para aventajar</li><li>b) Carril izquierdo, siga de frente</li><li>c) Carril derecho, solo puede girar derecho</li><li>d) Todas las anteriores.</li><li>e) Ninguna de las anteriores</li></ul>	
<p><b>30. ¿Qué indican las flechas direccionales ¿</b></p> <ul style="list-style-type: none"><li>a) Que se permite la maniobra que el símbolo indica</li><li>b) Líneas que canalizan el tráfico</li><li>c) Que no se puede girar a la derecha</li></ul>	
<p><b>31. ¿Qué indica este señal preventiva?</b></p> <ul style="list-style-type: none"><li>a) Vía de doble sentido y puedo aventajar</li><li>b) Curva y contra curva</li><li>c) Todo giro izquierdo, está permitido</li></ul>	
<p><b>32. Que indican estas marcas horizontales, que se muestran:</b></p> <ul style="list-style-type: none"><li>a) Peatones tienen preferencia</li><li>b) Zona de seguridad peatonal</li><li>c) Obligado a detenerme</li><li>d) Todas las anteriores</li><li>e) Ninguna de las anteriores</li></ul>	
<p><b>33. ¿Qué indica para los conductores la señal de tránsito que a continuación se presenta en la figura?</b></p> <ul style="list-style-type: none"><li>a) Curva a la izquierda</li><li>b) Una vía de tres carriles</li><li>c) Puede continuar y girar desde ese carril</li></ul>	
<p><b>34. Que indica para los conductores la señal de tránsito que a continuación se presenta en la figura.</b></p> <ul style="list-style-type: none"><li>a) Curva pronunciada hacia la derecha</li><li>b) Rotonda próxima</li><li>c) Ingreso controlado</li></ul>	





<p>35. ¿Qué indica para Ud. la señal de tránsito que a continuación se presenta en la figura?</p> <p>a) Curva a la derecha b) Giro obligatorio a la derecha c) Pendiente pronunciada a la derecha</p>	
<p>36. ¿Qué mensaje es el de la señal de tránsito preventiva que a continuación se presenta en la figura?</p> <p>a) Curva a la derecha b) rotonda próxima c) Pendiente pronunciada a la derecha</p>	
<p>37. ¿Qué debo entender ante esta señal vertical?</p> <p>a) Puente angosto b) Poblado a la orilla c) Reducción de carril</p>	
<p>38. ¿Que indica para los conductores la señal de tránsito que a continuación se presenta en la figura?</p> <p>a. Está prohibido conducir un vehículo a una velocidad mayor de 45 Km/h b. La limitación de velocidad está destinada sólo a vehículos públicos. c. La limitación de velocidad está destinada sólo a vehículos de dos ruedas y carretilla de mano.</p>	
<p>39. ¿Cuál de la maniobra es la correcta al observar la señal?</p> <p>a) Seguir la marcha sin parar si no viene otro vehículo b) Detenerse. c) Solamente observar a ambos lados izquierda derecha y seguir la marcha</p>	
<p>40. ¿Cuál es la función de la señal vertical que a continuación se presenta en la figura?</p> <p>a) Indica a los conductores la obligación de Detenerse. b) Se puede bajar velocidad y continuar c) Puedo seguir la marcha con seguridad sin parar.</p>	
<p>41. ¿En qué lugar debo parar según la gráfica que se muestra?</p> <p>a) Antes del paso peatonal. b) En motocicleta sobre la señal de tránsito. c) Por lo menos 10 metros antes del cruce.</p>	





Preguntas oficiales de la Dirección de Seguridad de Tránsito de la Policía Nacional  
Tema SEÑALES DE TRANSITO. Para presentar examen teórico en cualquier trámite.

42. Cuál de estas señales de tránsito tiene por objeto advertir a los usuarios trabajo en la vía.



1



2



3

43. ¿Cuál de estas señales, tiene por objeto notificar a conductores, las limitaciones y restricciones?



1



2



3

44. ¿Cuáles de las siguientes señales es informativa?



1



2



3

45. Seleccione cuál de las señales de tránsito advierte antes de un cruce en T.



Uno



Dos



Tres

46- En cuál de las siguientes figuras puedo adelantar con precaución y tomando en cuenta las técnicas para un adelantamiento seguro?

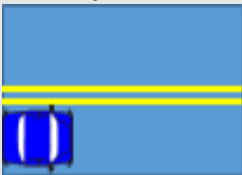


Figura 1



Figura 2

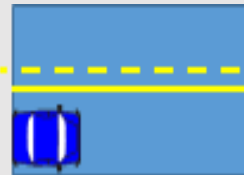


Figura 3





47. ¿Seleccione cuál de las señales de tránsito, marcada en la vía señala un paso peatonal?



Figura 1



Figura 2



Figura 3

48. ¿En cuáles de las siguientes figuras no puedo adelantar en ninguno de los dos sentidos?

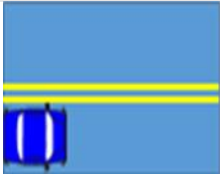


Figura 1

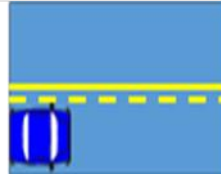


Figura 2

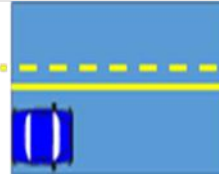


Figura 3

49. ¿Cuál es la diferencia entre la línea amarilla discontinua y línea blanca discontinua?

- a) En ambas se puede aventajar
- b) Ambas indican que se tratan de vías de doble sentido
- c) El color amarillo indica doble sentido de circulación y el color blanco un solo sentido.

50. La línea continua de color blanco, me indica que:

- a) La calle es de doble vía
- b) No debo hacer cambio de carril, es de una sola vía
- c) Puedo hacer cambio de carril

51. El "alto" es una señal que se clasifica como:

- a. Preventiva
- b. Reglamentaria o Restrictivas
- c. Informativa

52. El semáforo es una señal que se clasifica como:

- d. Preventiva
- e. Lumínica que regula la circulación vial.
- f. Informativa

53. ¿Qué es Regulación a brazos?

- a) Movimientos coordinados y coherentes que realiza el agente Tránsito sobre la vía, para el desplazamiento de los vehículos y el ordenamiento peatonal.
- b) Las señales de brazos que realiza el conductor
- c) Señales que debemos ejecutar cuando tenemos desperfecto en luces direccionales,

54. ¿Qué se entiende por señales informativas?

- g. Son aquellas que tienen por objeto identificar las vías y lugares por donde se va circulando. así como guiar los conductores y peatones de manera correcta y segura.
- h. Las que anuncian las vueltas de la carretera.
- i. Las que se colocan en las esquinas







Preguntas oficiales de la Dirección de Seguridad de Tránsito de la Policía Nacional  
Tema SEÑALES DE TRANSITO. Para presentar examen teórico en cualquier trámite.

**55 ¿Cuáles son las Señales verticales?**

- j. Están pintadas en la vía
- k. Los semáforos que regulan la circulación vial
- l. Son aquellas que contienen símbolos ubicados en parales y que se ubican a la orilla de las vías, a fin de regular e informar y prevenir la circulación.

**56 ¿Cuáles son las señales horizontales?**

- m. Son marcas y símbolos pintados en el pavimento, con fines de regulación e informar el tránsito.
- n. Son aquellas que contienen símbolos ubicados en parales y que la finalidad de regular e informar sobre el tránsito.
- o. Los semáforos que regulan la circulación vial

**57. En una rotonda de tres carriles de entrada, usted circula en el carril del centro, ¿Cuál de las siguientes maniobras es permitida?**

- p. Girar a la izquierda
- q. Seguir de frente
- r. Girar a la derecha

**58. En una rotonda de tres carriles de entrada, usted circula en el carril izquierdo, ¿Cuál de las siguientes maniobras es permitida?**

- a) Girar a la derecha
- b) Seguir de frente
- c) Retornar

**59. ¿El semáforo amarillo intermitente permanente, que indica al conductor?**

- a. Siempre tengo la preferencia con la luz amarilla
- b. Preferencia de paso y bajar la velocidad cuando la luz roja es intermitente
- c. Reducir la velocidad e incluso parar si es necesario, debo observar los otros sentidos de circulación

**60. ¿Cuál es la función de las señales preventivas**

- a) Nos advierten de peligros en la vía y la naturaleza de ese peligro
- b) Nos suministran valiosa información sobre la proximidad de gasolineras, hospitales y otros
- c) Nos suministran información sobre la proximidad de estacionamientos, áreas de restaurantes u otros.

NOTA: Este material debe ser estudiado por todos los aspirantes a cualquier categoría. Se recomienda estudiarlo previo al seminario y al examen teórico

